


1 **Tausender** Block



1 **Hunderter** Platte



1 **Zehner** Stange



1 **Einer** Würfel


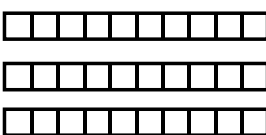
© REPO - Lern- und Lehrmedien

Wie viele **Einer** Würfel passen in die **Zehner** Stange? (Zeichne und rechne!)

 =  \_\_\_\_\_

1 Zehner = \_\_\_\_\_ Einer

Wie viele **Zehner** Stangen passen in die **Hunderter** Platte?  
(Zeichne und rechne!)

 = 

1 Hunderter = \_\_\_\_\_ Zehner